

صبح جمعه ۱۴۰۳/۰۲/۰۷



در زمینه مسائل علمی باید دنبال قله بود.  
مقام معظم رهبری

دفترچه شماره ۱

جمهوری اسلامی ایران  
وزارت علوم، تحقیقات و فناوری  
سازمان سنجش آموزش کشور

**آزمون سراسری ورودی دانشگاه‌ها و مؤسسات آموزش عالی**  
**نوبت اول - اردیبهشت سال ۱۴۰۳**

**گروه آزمایشی علوم تجربی**

ملاحظات	زمان پاسخگویی	تا شماره	از شماره	تعداد سؤال	مواد امتحانی	ردیف
۴۵ سؤال ۴۵ دقیقه	۴۵ دقیقه	۴۵	۱	۴۵	زیست‌شناسی	۱

این آزمون، نمره منفی دارد.

استفاده از ماشین حساب مجاز نیست.

\* داوطلب گرامی، عدم درج مشخصات و امضا در مندرجات جدول زیر، به‌منزلهٔ عدم حضور شما در جلسهٔ آزمون است.

اینجانب ..... با شمارهٔ داوطلبی ..... با آگاهی کامل، یکسان بودن شمارهٔ صندلی خود را با شمارهٔ داوطلبی مندرج در بالای کارت ورود به جلسه، بالای پاسخ‌نامه و دفترچهٔ سؤالات، نوع و کد کنترل درج شده بر روی دفترچهٔ سؤالات تأیید می‌نمایم.

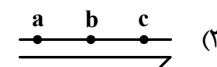
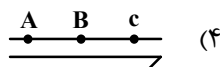
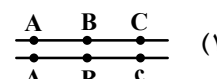
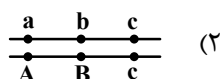
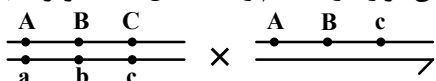
امضا:

- ۱- چند مورد دربارهٔ استخوان‌های ستون مهرهٔ یک فرد سالم، صادق است؟ (با فرض اینکه فرد به حالت قائم قرار دارد).  
الف: نخستین استخوان مهرهٔ گردن با یکی از استخوان‌های مجموعه مفصل شده است.  
ب: مهره‌های ناحیهٔ کمر از مهره‌هایی که در ناحیهٔ گردن قرار گرفته‌اند، بزرگ‌ترند.  
ج: مهره‌های ناحیهٔ پشت، از طریق زائده‌های پهلویی خود به دو دنده متصل‌اند.  
د: یکی از استخوان‌های ستون مهره که تعدادی حفرهٔ کوچک دارد، با دو استخوان نیم‌لگن مفصل شده است.
- ۲- درخصوص بخشی از دستگاه گوارش انسان که با ترشح آنزیم‌هایی در تجزیهٔ فراوان‌ترین لیپیدهای رژیم غذایی، بیشترین نقش را دارد، کدام مورد درست است؟  
(۱) خون خارج‌شده از آن، ابتدا با خون خارج‌شده از نوعی اندام لنگی به هم می‌پیوندند.  
(۲) تحرک و ترشح در آن، مستقیماً توسط شبکه‌های یاخته‌های عصبی تنظیم می‌شود.  
(۳) ترشحات بزرگ‌ترین اندام مرتبط با لولهٔ گوارش را دریافت می‌کند.  
(۴) تحت تأثیر نوعی پیک شیمیایی شروع به ترشح می‌کند.
- ۳- کدام عبارت در ارتباط با یک مرد جوان و سالم، نادرست است؟  
(۱) هورمونی که رشد غدهٔ پروستات را تحریک می‌کند، با سازوکار بازخورد منفی تنظیم می‌شود.  
(۲) هورمونی که صفات ثانویه را ایجاد می‌کند، منحصراً توسط یاخته‌های بینابینی ترشح می‌شود.  
(۳) هورمونی که باعث رشد ماهیچه‌ها و استخوان‌ها می‌شود، برای فعالیت یاخته‌های سرتولی ضروری است.  
(۴) هورمونی که بر فعالیت یاخته‌های دیوارهٔ لوله‌های زامه (اسپرم)‌ساز مؤثر است، توسط غدهٔ هیپوفیز تولید می‌شود.
- ۴- کدام مورد، طی فرایند تنفس نوری در گیاهان  $C_3$ ، رخ می‌دهد؟  
(۱) در این فرایند همانند فرایند تثبیت کربن در گیاهان  $C_4$ ،  $NADPH$  و  $ATP$  تولید می‌شود.  
(۲) در این فرایند همانند فرایند تنفس یاخته‌ای در گیاهان،  $CO_2$  در داخل راکیزه (میتوکندری) آزاد می‌شود.  
(۳) در این فرایند برخلاف فرایند تثبیت کربن در گیاهان  $CAM$ ، میزان  $CO_2$  در محل آنزیم روبیسکو بالا ننگه داشته می‌شود.  
(۴) در این فرایند برخلاف فرایند تثبیت کربن در گیاهان  $C_3$ ، ربیولوز بیس فسفات با کمک ترکیبی سه‌کربنی بازسازی می‌شود.
- ۵- دربارهٔ فقط بعضی از مهره‌داران ماده‌ای که ساختار ویژه و کارآمدی جهت اکسیژن‌گیری از آب دارند که به نواحی خاصی محدود شده است، کدام مورد صدق می‌کند؟  
(۱) در درون بدن آنها، ممکن است تخمکی با دیوارهٔ ژله‌ای و چسبناک تولید شده باشد.  
(۲) در دو طرف بدن و در روی پوست آنها، کانال‌هایی حاوی یاخته‌های مژک‌دار وجود دارد.  
(۳) در پی ترشح آنزیم‌های لولهٔ گوارش آنها، فرایند گوارش برون‌یاخته‌ای انجام می‌شود.  
(۴) خون آنها پس از تبدلات گازی، ابتدا به اندام‌های مختلف بدن می‌رود.

- ۶- مطابق با اطلاعات کتاب درسی، مایع زلالیه مواد غذایی و اکسیژن را برای بخش‌هایی از چشم انسان فراهم می‌کند. چند مورد، ویژگی مشترک این بخش‌ها را در یک چشم سالم نشان می‌دهد؟
- الف: سطح کاملاً کروی و صافی دارند.
- ب: محیط شفاف را به وجود می‌آورند.
- ج: توسط جسم مژگانی احاطه شده‌اند.
- د: مجاور مایع ژله‌ای و شفاف چشم هستند.

۱ (۴)                      ۲ (۳)                      ۳ (۲)                      ۴ (۱)

- ۷- با فرض اینکه ژن‌های موردنظر بر روی فام تن (کروموزوم)‌های جنسی انسان قرار دارد، کدام زاده حاصل گامت نوترکیب است؟ (علامت « $\rightarrow$ » نشان‌دهنده فام تن y است.)



- ۸- مطابق با اطلاعات کتاب درسی و در ارتباط با جانوری که برای تأمین بیشترین انرژی خالص، از صدف‌هایی با اندازه متوسط استفاده می‌کند، کدام مورد صحیح است؟

- (۱) از نظر روش اصلی برای تنفس به ستاره دریایی شباهت دارد.
- (۲) از نظر ساختار ویژه دفع و تنظیم اسمزی به زنبور شباهت دارد.
- (۳) از نظر اساس حرکت با انسان تفاوت دارد.
- (۴) از نظر نوع اسکلت با شته تفاوت دارد.

- ۹- کدام مورد، در ارتباط با یاخته‌های زنده پیراپوست (پریدرم) تنه یک درخت مسن، نادرست است؟

- (۱) همه آنها، در منطقه پوست درخت قرار گرفته‌اند.
- (۲) فقط بعضی از آنها، در مجاورت چوب پسین هستند.
- (۳) همه آنها، جزو سامانه بافت پوششی گیاه محسوب می‌شوند.
- (۴) فقط بعضی از آنها، دائماً تقسیم می‌شوند و در افزایش قطر ساقه نقش اصلی را دارند.

- ۱۰- به‌طور معمول، کدام مورد وقایع پس از لقاح در انسان را نشان می‌دهد؟

- (۱) همزمان با تشکیل حفره درون بلاستوسیست، نوعی توده یاخته‌ای در تخمدان به فعالیت خود ادامه می‌دهد.
- (۲) همزمان با تشکیل تروفوبلاست، لایه‌های زاینده جنینی هم به وجود می‌آیند.
- (۳) همزمان با تشکیل توده یاخته‌ای درونی، هورمون HCG ترشح می‌شود.
- (۴) همزمان با تشکیل مورولا، فرایند جایگزینی به انجام می‌رسد.

- ۱۱- در انسان طی یک گردش ششی، خون دو سیاهرگ ششی نسبت به سیاهرگ‌های ششی دیگر مسیر کوتاه‌تری را طی می‌کند تا از طریق منافذی به قلب وارد شود. چند مورد، درباره این منافذ صادق است؟

الف: به گره سینوسی - دهلیزی نزدیک‌اند.

ب: در سطح پشتی قلب قرار دارند.

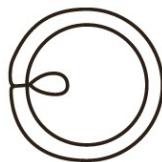
ج: از منفذ بزرگ سیاهرگ زبرین دورند.

د: در مجاورت دریچه سینی سرخرگ ششی قرار دارند.

۱ (۴)                      ۲ (۳)                      ۳ (۲)                      ۴ (۱)

- ۱۲- کدام مورد در ارتباط با یاخته ماهیچه دلتایی انسان، نادرست است؟
- (۱) با حضور آدنوزین تری فسفات، موقعیت سر میوزین نسبت به دم آن تغییر می‌کند.
  - (۲) طی مدت برقراری پل اتصال میوزین به اکتین، موقعیت سر میوزین نسبت به دم آن، تغییر می‌کند.
  - (۳) دقیقاً قبل از جدا شدن میوزین از اکتین، موقعیت سر میوزین نسبت به رشته اکتین به حالت قائم است.
  - (۴) با نزدیک شدن اکتین به بخش میانی میوزین، موقعیت سر میوزین نسبت به رشته اکتین به حالت غیرقائم درمی‌آید.
- ۱۳- در ارتباط با واکنش‌های تثبیت کربن در برگ گیاه مو و با توجه به واکنش‌هایی که پس از ایجاد ترکیب ناپایدار رخ می‌دهد، کدام مورد در یک چرخه، پیش از سایرین به انجام می‌رسد؟
- (۱) خروج گروه فسفات از چرخه
  - (۲) تولید مولکول پنج کربنی فسفات‌دار
  - (۳) خروج نوعی مولکول دوفسفاته از چرخه
  - (۴) استفاده از الکترون‌های نوعی مولکول پرانرژی
- ۱۴- با توجه به دیواره سه‌لایه‌ای قلب انسان، ویژگی مشترک دولایه‌ای که با ضخیم‌ترین لایه این دیواره مجاور هستند، کدام است؟
- (۱) یاخته‌هایی دارند که به یکدیگر بسیار نزدیک‌اند.
  - (۲) بیشتر از یاخته‌های بافت ماهیچه‌ای تشکیل شده‌اند.
  - (۳) یاخته‌های آنها در ساختار دریچه‌ها به کار رفته‌اند.
  - (۴) یاخته‌های مخطط آنها از طریق صفحات بینابینی به هم مربوطند.
- ۱۵- نوعی هورمون گیاهی می‌تواند عمر سبزی خوردن را بعد از برداشت افزایش دهد. کدام دو نقش زیر، به این هورمون تعلق دارد؟
- (۱) ایجاد ریشه در گیاهان پسته و گردو و ریزش میوه در گیاه پنبه
  - (۲) القای تقسیم در یاخته‌های کال و رشد جوانه‌های جانبی در گیاهان بوته‌ای
  - (۳) جانشین سرما در جوانه‌زنی دانه‌ها و ممانعت از رویش و رشد علف‌های هرز
  - (۴) به خواب رفتن جوانه‌ها در گیاهان چوبی و جلوگیری از رویش دانه در داخل میوه
- ۱۶- در خصوص یاخته‌های یوکاریوتی، کدام مورد یا موارد زیر صحیح است؟
- الف: طول هر بیان (اگزون) آنها، از طول میانه (اینترون) مجاورش بیشتر است.
- ب: در میان نوکلئوتیدهای دو انتهای tRNA آنها، پیوند هیدروژنی وجود دارد.
- ج: نوکلئوتیدهای آدنین‌دار با جرم‌ها و نقش‌های متفاوت در سیتوپلاسم آنها یافت می‌شود.
- د: آمینواسید خارج‌شده از جایگاه P رناتن آنها، از سمت گروه کربوکسیل خود با آمینواسید جایگاه A پیوند برقرار می‌کند.
- (۱) «ج» و «د»
  - (۲) «الف» و «ب»
  - (۳) «الف»، «ب» و «د»
  - (۴) «ج»
- ۱۷- در ارتباط با بزرگ‌ترین اندام لنفی یک فرد بزرگسال (به غیر از مغز استخوان)، که فعالیت زیادی دارد، کدام مورد نادرست است؟
- (۱) محتویات خود را از طریق رگ‌های لنفی به مجرای لنفی چپ وارد می‌کند.
  - (۲) در بالا بردن ظرفیت حمل اکسیژن خون نقش مؤثری دارد.
  - (۳) بزرگ‌ترین گویچه‌های سفید تک‌هسته‌ای را تولید می‌کند.
  - (۴) یاخته‌های خونی غیرطبیعی را تخریب می‌کند.

۱۸- با توجه به شکل ۱ و ۲ که به ترتیب به گل‌های شماره ۱ و ۲ تعلق دارد، کدام عبارت زیر صحیح است؟



شکل (۱)



شکل (۲)

- (۱) در گل ۱ و ۲، تعداد برچه‌ها، بیش از تعداد فضای خالی درون مادگی است.  
 (۲) گل ۲ نسبت به گل ۱، تعداد کلاله کمتری دارد.  
 (۳) در گل ۱ و ۲، به تعداد یکسان تخمک وجود دارد.  
 (۴) گل ۲ نسبت به گل ۱، تعداد خامه بیشتری دارد.

۱۹- کدام عبارت در ارتباط با رفتار جیرجیرک نر مطرح شده در کتاب درسی، صادق است؟

- (۱) برای جانور نر هزینه اندکی دارد.  
 (۲) بر تغییر خزانه ژنی جمعیت نسل آینده بی تأثیر است.  
 (۳) باعث می‌شود تا بیشترین زاده‌های سالم را داشته باشد.  
 (۴) مستقل از ژن نمود (ژنوتیپ) جیرجیرک جنس مخالف است.

۲۰- با توجه به اطلاعات کتاب درسی، کدام مورد در ارتباط با ساختار و یا عملکرد آنزیم‌های بدن انسان، نادرست است؟

- (۱) در آنزیم اتصال‌دهنده متیونین به رنا، محل استقرار توالی پادرمزه (آنتی کدون) با فاصله زیادی از جایگاه متیونین قرار دارد.  
 (۲) در آنزیم مولد کراتین از کراتین فسفات، گروه‌های فسفات پیش‌ماده‌ها با فاصله بسیار زیادی از هم قرار می‌گیرند.  
 (۳) در پی تغییر شکل‌گذاری پمپ سدیم - پتاسیم، تمایل این آنزیم به پیش‌ماده‌هایش عوض می‌شود.  
 (۴) در حضور آب، دو نوع مونوساکارید از جایگاه فعال آنزیم تجزیه‌کننده ساکارز خارج می‌شود.

۲۱- به منظور تقسیم سیتوپلاسم یاخته مریستمی ریشه لوبیا، لازم است چند مورد زیر رخ دهد؟  
 الف: صفحه یاخته‌ای در بخش میانی یاخته به وجود آید.

- ب: با استفاده از غشای ریزکیسه (وزیکول)های گلژی، غشاهای جدیدی شکل بگیرد.  
 ج: ریزکیسه (وزیکول)های غنی از پیش‌سازهای تیغه میانی در بخشی از یاخته تجمع یابند.  
 د: اندامک‌های استوانه‌ای (حاوی دسته‌های سه‌تایی از لوله‌های پروتئینی) دو برابر شود.

۱ (۴)                      ۲ (۳)                      ۳ (۲)                      ۴ (۱)

۲۲- کدام مورد، ویژگی مشترک هر دو لوب شش چپ انسان را نشان می‌دهد؟

- (۱) در نزدیکی حلقه‌های غضروفی C شکل مجرای تنفسی قرار دارند.  
 (۲) توسط آخرین دنده‌های قفسه سینه احاطه می‌شوند.  
 (۳) نخستین انشعابات نایژه اصلی را دریافت می‌کنند.  
 (۴) در تماس با ماهیچه میان‌بند (دیافراگم) قرار می‌گیرند.

۲۳- درخصوص یکی از پرده‌هایی که از نخاع انسان محافظت می‌کند و زوائد تارمانندی دارد، کدام مورد نادرست است؟

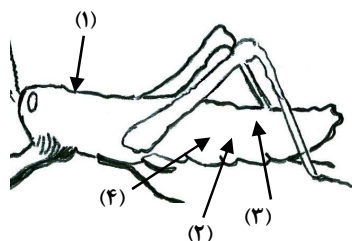
(۱) به ماده سفید نخاع چسبیده است.

(۲) در تماس با مایع مغزی - نخاعی قرار دارد.

(۳) در مجاورت مویرگ‌های پیوسته قرار دارد.

(۴) محل‌هایی را برای عبور رشته‌های عصب نخاعی فراهم کرده است.

- ۲۴- کدام مورد، برای تکمیل عبارت زیر مناسب است؟  
 «در انسان، فقط آن بخش از آنزیم ATP ساز که در ..... داخلی راکبزه (میتوکندری) قرار دارد، .....»
- (۱) غشای - حاوی تعدادی قطعات مجزاست  
 (۲) فضای - می‌تواند به عبور پروتون‌ها کمک کند  
 (۳) فضای - منبع رایج انرژی یاخته را رها می‌سازد  
 (۴) غشای - می‌تواند الکترون بگیرد یا از دست بدهد
- ۲۵- با فرض اینکه در گیاه آلبالو، یاخته باقیمانده از تقسیم یاخته بافت خورش حامل ژن B و ژن نمود (ژنوتیپ) یاخته سازنده دانه گرده AB باشد، کدام ژن نمود را می‌توان برای تخم اصلی و تخم ضمیمه محتمل دانست؟  
 (۱) AA و ABB (۲) BB و BBB (۳) AB و AAA (۴) BB و AAB
- ۲۶- با توجه به رفتار بیرون انداختن پوسته‌های تخم شکسته شده از لانه توسط پرنده کاکایی، چند مورد زیر درباره این رفتار، صادق است؟  
 الف: به تدریج و در مدت زمان طولانی به انجام می‌رسد.  
 ب: تحت تأثیر یکی از عوامل تغییردهنده تعادل جمعیت شکل می‌گیرد.  
 ج: به سالم ماندن تخم‌های سفیدرنگ پرنده و بقای جوجه‌های آن می‌انجامد.  
 د: نشانه‌ای از داشتن ژن‌های مربوط به صفات سازگارکننده در پرنده است.
- ۱ (۴) ۲ (۳) ۳ (۲) ۴ (۱)
- ۲۷- با توجه به شکل زیر و با فرض اینکه مناطق موردنظر در داخل بدن جانور قرار گرفته باشند، کدام عبارت نادرست است؟  
 (۱) در حدود منطقه ۴، بخشی وجود دارد که اوریک اسید و آب موجود در همولنف، ابتدا به آن وارد می‌شود.  
 (۲) در حدود منطقه ۳، بخشی وجود دارد که ارتباط یاخته‌های بدن را با محیط فراهم می‌کند.  
 (۳) در حدود منطقه ۱، بخشی وجود دارد که با طناب عصبی شکمی در ارتباط است.  
 (۴) در حدود منطقه ۲، بخشی وجود دارد که همولنف را به حفره‌های بدن پمپ می‌کند.
- ۲۸- کدام عبارت، در ارتباط با دستگاه درون‌ریز بدن یک خانم جوان، درست است؟  
 (۱) هر غده‌ای که هورمون جنسی ترشح می‌کند، در ناحیه شکم قرار دارد.  
 (۲) هر غده‌ای که بر تراکم بافت استخوان مؤثر است، در زیر حنجره قرار دارد.  
 (۳) هر غده‌ای که باعث حفظ تعادل آب در بدن می‌شود، در ناحیه مغز قرار گرفته است.  
 (۴) هر غده‌ای که بازجذب ماده‌ای را به خون افزایش می‌دهد، مستقیماً تحت تأثیر هورمون محرک هیپوفیز است.
- ۲۹- با توجه به بخشی از یک چرخه کربس که در آن نوعی پیوند اشتراکی بین فسفات و نوعی نوکلئوتید برقرار می‌شود، کدام مورد نادرست است؟ (محل ورود استیل کوآنزیم A به چرخه، به عنوان محل آغاز چرخه در نظر گرفته می‌شود).  
 (۱) بعد از این بخش، آخرین مولکول چهارکربنی به وجود می‌آید.  
 (۲) بعد از این بخش، دو نوع مولکول حامل الکترون تولید می‌شود.  
 (۳) قبل از این بخش، نوعی ماده آلی آزاد می‌شود که برای فعالیت آنزیم ضروری است.  
 (۴) قبل از این بخش، نوعی مولکول ایجاد می‌شود که غالباً از طریق ترکیب با هموگلوبین در خون حمل می‌شود.
- ۳۰- بخشی از مغز گوسفند که کف بطن چهارم را می‌سازد، چه مشخصه‌ای دارد؟  
 (۱) در زیر مرکز هماهنگ‌کننده فعالیت ماهیچه‌ها و حرکات موزون بدن قرار دارد.  
 (۲) با تحریک این منطقه رفتارهای احساسی جانور برانگیخته می‌شود.  
 (۳) در فعالیت‌های شنوایی، بینایی و حرکت نقش اصلی را دارد.  
 (۴) تشنگی، گرسنگی و خواب را تنظیم می‌کند.

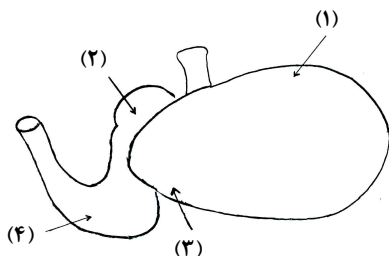


- ۳۱- با توجه به نمونه‌های مطرح شده در کتاب درسی، چند مورد برای تکمیل عبارت زیر مناسب است؟  
 «هر تغییر ساختاری در ماده ژنتیکی که ..... را تحت تأثیر قرار می‌دهد، در تشکیل فام‌تنی (کروموزومی) نقش دارد که نسبت به حالت اولیه خود ..... است.»  
 الف: فقط یک فام‌تن (کروموزوم) - فاقد بعضی از ژن‌ها  
 ب: فام‌تن (کروموزوم)های غیرهمتا - دارای طول متفاوتی  
 ج: فام‌تن (کروموزوم)های همتا - دارای دو نسخه از بعضی ژن‌ها  
 د: فقط یک فام‌تن (کروموزوم) - از نظر موقعیت سانترومر متفاوت
- (۱) ۳ (۲) ۴ (۳) ۱ (۴) ۲

- ۳۲- در انسان، کدام مورد نسبت به سایرین به نوعی بافت پیوندی که سطح خارجی تنه استخوان ران را احاطه کرده، نزدیک‌تر است؟  
 (۱) سامانه‌های هاورسی است که توسط مغز استخوان احاطه شده‌اند.  
 (۲) یاخته‌های استخوانی است که به صورت نامنظم در کنار یکدیگر قرار گرفته‌اند.  
 (۳) مغز استخوانی است که در درون حفره‌های متعدد تیغه‌های استخوانی جای دارد.  
 (۴) یاخته‌های استخوانی است که به صورت متحدالمرکز در درون ماده زمینه استخوانی قرار گرفته‌اند.
- ۳۳- با توجه به اطلاعات کتاب درسی، کدام مورد در خصوص کاربرد زیست‌فناوری نادرست است؟

- (۱) استفاده از بعضی انواع فراورده‌های حاصل از دیسک نوترکیب در ساختار انسولین  
 (۲) قرار دادن و تکثیر فقط یاخته‌های بنیادی در محیط کشت بر روی داربست به منظور بازسازی غضروف آسیب‌دیده  
 (۳) انتقال دیسک نوترکیب به تخمک لقاح‌یافته گوسفند به منظور تولید پروتئین‌های انسانی با استفاده از دام‌های تراژنی  
 (۴) آماده‌سازی محیط کشت حاوی باکتری‌های فاقد دیسک و دارای دیسک نوترکیب در جریان تولید نوعی آنزیم پر کاربرد صنعتی
- ۳۴- شکل زیر بخشی از دستگاه گوارش نوعی جانور را نشان می‌دهد. با توجه به بخش‌های مورد نظر، کدام مورد درست است؟

- (۱) در بخش ۱ برخلاف بخش ۴، آنزیم‌های گوارشی جانور ترشح می‌شود.  
 (۲) در بخش ۱ همانند بخش ۳، غذایی نیمه‌جویده و کاملاً جویده یافت می‌شود.  
 (۳) در بخش ۴ برخلاف بخش ۲، آب مواد غذایی تا حدودی جذب می‌شود.  
 (۴) در بخش ۲ همانند بخش ۳، جذب اصلی مواد غذایی صورت می‌گیرد.



- ۳۵- در صورتی که مغز گوسفند را طوری در ظرف تشریح قرار دهیم که شیار بین دو نیمکره مخ به سمت بالا باشد، در خصوص محلی که در آن بخشی از آسه (اکسون)های عصب بینایی یک چشم به نیمکره مخ مقابل می‌رود، کدام مورد صادق است؟  
 (۱) در مجاورت لوب‌های بویایی قرار دارد.  
 (۲) بخشی از مغز میانی محسوب می‌شود.  
 (۳) نسبت به اپی‌فیز در سطح پایین‌تری قرار دارد.  
 (۴) با محل پردازش اولیه اطلاعات بینایی مجاور است.

- ۳۶- ویژگی مشترک یاخته‌های درون پوست (آندودرم) و یاخته‌های لایه ریشه‌زایی که در منطقه ریشه گیاه اداریسی قرار دارند، کدام مورد یا موارد زیر است؟  
 الف: به ناحیه پوست ریشه تعلق دارند.  
 ب: در فرایند بارگیری چوبی نقش دارند.  
 ج: می‌توانند مواد را به روش سیمپلاستی انتقال دهند.  
 د: در دیواره آنها منحصراً پکتین و رشته‌های سلولزی وجود دارد.

(۱) «د» (۲) «ب» و «ج» (۳) «الف» و «د» (۴) «الف»، «ب» و «ج»

۳۷- در خصوص فرایند تنظیم بیان ژن در هستهٔ یاختهٔ میانبرگ لوبیا، کدام مورد زیر، به‌طور حتم صحیح است؟

- (۱) گروهی از لیپیدها در این فرایند نقش مؤثری دارند.
- (۲) این فرایند بر تعداد جایگاه‌های آغاز همانندسازی یاخته بی‌تأثیر است.
- (۳) فقط نوعی مولکول شیمیایی یا زیستی، محرک اولیهٔ این فرایند است.
- (۴) هر پروتئین مؤثر در این فرایند، فقط به یک نوع بسیار متصل می‌شود.

۳۸- در ارتباط با مراحل تخمک‌زایی در یک خانم جوان ۲۵ ساله، کدام مورد نادرست است؟

- (۱) هر یاخته‌ای که بتواند پس از لقاح با زامه تودهٔ پریاخته‌ای را ایجاد کند، مقدار بیشتری سیتوپلاسم دریافت کرده است.
- (۲) هر یاخته‌ای که بتواند چرخهٔ تخمدانی را آغاز و ادامه دهد، با یاخته‌های ترشح‌کنندهٔ هورمون جنسی ارتباط نزدیکی دارد.
- (۳) هر یاخته‌ای که فام‌تن (کروموزوم)های دوفامینکی (کروماتیدی) دارد، در درون غدهٔ جنسی به‌وجود آمده است.
- (۴) هر یاخته‌ای که دارای یک مجموعه فام‌تن (کروموزوم) است، در اطراف خود یاخته‌های ترشح‌کننده دارد.

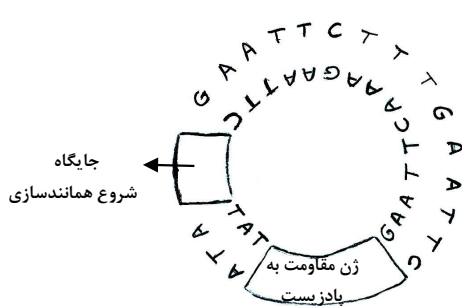
۳۹- به‌طور معمول و با توجه به اطلاعات کتاب درسی، کدام عبارت درباره ساختارهای مارپیچی شکل و منظم موجود در

یاختهٔ ماهیچهٔ توأم انسان صدق می‌کند؟

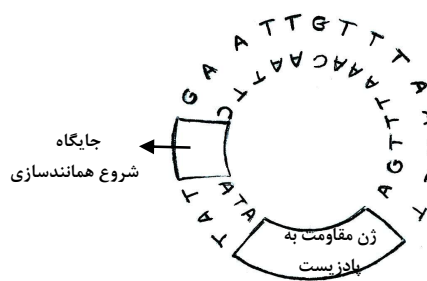
- (۱) هنگام تشکیل پیوند اشتراکی بین واحدهای سازنده همهٔ آنها، فقط مولکول آب آزاد شده است.
- (۲) همهٔ آنها دورشته‌ای و حاوی اتم‌های کربن، هیدروژن و اکسیژن هستند.
- (۳) فقط بعضی از آنها، جهت فعالیت زیستی، به نوعی مادهٔ آلی وابسته‌اند.
- (۴) فقط بعضی از آنها، توسط پوشش دو غشایی احاطه شده‌اند.

۴۰- مطابق با مطالب کتاب درسی، به منظور اتصال قطعه‌ای از دنا به ناقل همسانه‌سازی به کمک آنزیم EcoRI، کدام یک

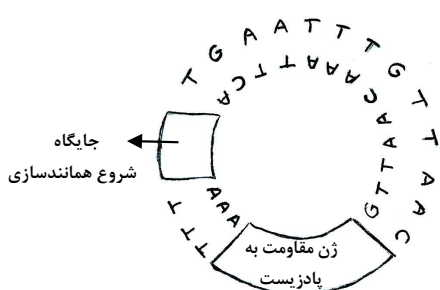
از دیسک‌های فرضی زیر مناسب‌تر است؟



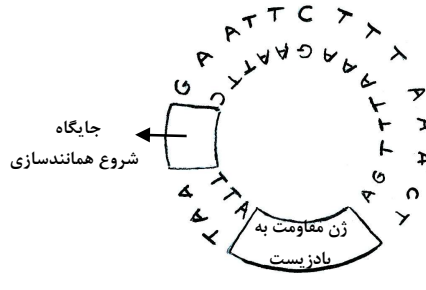
(۲)



(۱)



(۴)



(۳)

۱ (۴)

۲ (۳)

۳ (۲)

۴ (۱)



۴۱- کدام عبارت درباره‌ی فراوان‌ترین یاخته‌های سطحی پرز روده‌ی باریک انسان، صحیح است؟

(۱) وظیفه‌ی ترشح ماده‌ی مخاطی را برعهده دارند.

(۲) مواد را به محیط داخلی بدن وارد می‌کنند.

(۳) در مجاورت لایه‌ی ماهیچه‌ای حلقوی قرار دارند.

(۴) هسته‌ی بیضی‌شکل آنها به چین‌های میکروسکوپی یاخته نزدیک است.

۴۲- با هجوم نوعی باکتری به بدن و ورود آنها از راه حلق به گوش میانی، کدام اتفاق ممکن است رخ دهد؟

(۱) پرده‌ی انتهایی مجرای شنوایی نمی‌تواند به درستی بلرزد.

(۲) دریچه‌ی بیضی دیگر نمی‌تواند مایع درون مجاری نیم‌دایره‌ای را به حرکت درآورد.

(۳) اختلاف بار الکتریکی نمی‌تواند در دو سوی غشای گیرنده‌های بخش حلزونی برقرار باشد.

(۴) استخوان رکابی نمی‌تواند ارتعاشات را به میزان کافی به پرده‌ی ضخیم مجاور خود منتقل کند.

۴۳- در بررسی نوعی بیماری ژنی که با فقدان عامل انعقادی VIII بروز می‌کند، با فرض ممکن بودن ازدواج‌های زیر، کدام مورد نامحتمل است؟

(۱) تولد پسر سالم از پدر سالم و مادر ناقل

(۲) تولد پسر بیمار از پدر بیمار و مادر ناقل

(۳) تولد دختر سالم از پدر سالم و هر مادر خالص

(۴) تولد دختر بیمار از پدر بیمار و مادر سالم خالص

۴۴- کدام عبارت، در ارتباط با آن دسته از گیاهان آوندی که از طریق دانه تولیدمثل می‌کنند، درست است؟

(۱) فقط بعضی از آنها می‌توانند از طریق فرایندی، باعث مرگ یاخته‌های خود شوند.

(۲) همه‌ی آنها، نیتروژن موردنیاز خود را فقط به‌صورت یون آمونیوم یا نیترات جذب می‌کنند.

(۳) فقط بعضی از آنها، می‌توانند مواد مضر برای گیاه را به‌صورت ایمن در خود نگهداری کنند.

(۴) اغلب آنها، از طریق ریشه فقط با انواعی از موجودات فتوسنتزکننده رابطه‌ی هم‌زیستی دارند.

۴۵- فرض کنید که فردی اخیراً به چند نوع بیماری عفونی مبتلا شده و بهبود یافته است. نمودار زیر پاسخ اولیه و ثانویه آخرین بیماری این فرد را نشان می‌دهد. کدام مورد با توجه به بخش‌های موردنظر، به‌طور حتم، صحیح است؟

(۱) در بخش ۳، فقط یک نوع لنفوسیت B خاطره، در خون فرد قابل

شناسایی است.

(۲) در بخش ۲، پادگن‌های محلول توسط بیگانه‌خوارها رسوب داده شده‌اند.

(۳) در بخش ۱، هر پادتن به دو مولکول پادگن یکسان متصل شده است.

(۴) در بخش ۴، یاخته‌های خاطره با سرعت زیادی تقسیم شده‌اند.

